


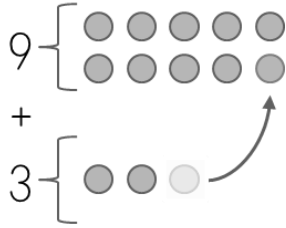
	eboard さんすうプリント	なまえ	
	(5) 10 よりおおきいたしざん、ひきざん	ひづけ	

1  10 よりおおきくなる たしざん

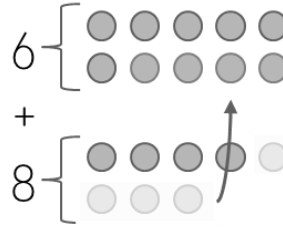


ずをみて、つぎのけいさんに こたえよう。

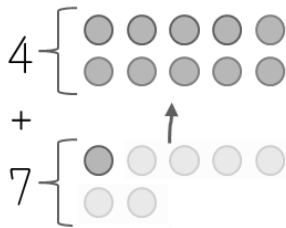
(1) $9+3=$




(2) $6+8=$



(3) $4+7=$



2  10 よりおおきくなる たしざん：れんしゅう



つぎのけいさんを、しましょう。

(1) $5+6=$

(2) $7+6=$

(3) $4+9=$

(4) $8+3=$

(5) $7+9=$

(6) $8+8=$

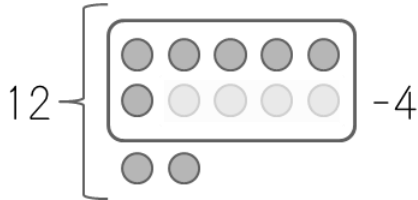
(7) $9+8=$

3  くりあがりのある ひきざん

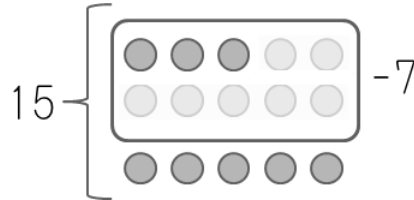


ずをみて、つぎのけいさんに こたえよう。

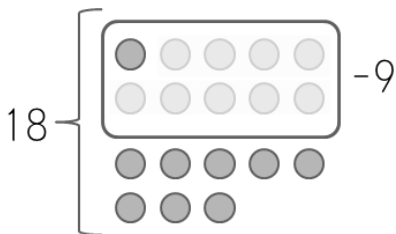
(1) $12-4=$




(2) $15-7=$



(3) $18-9=$



4  くりさがりのある ひきざん：れんしゅう



つぎのけいさんを、しまししょう。

(1) $11-2=$

(2) $14-8=$

(3) $13-4=$

(4) $12-7=$

(5) $15-7=$

(6) $17-8=$

(7) $18-9=$



こたえ

1 (1) 12 (2) 14

(3) 11

2 (1) 11 (2) 13

(3) 13 (4) 11

(5) 16 (6) 16

(7) 17

3 (1) 8 (2) 8

(3) 9

4 (1) 9 (2) 6

(3) 9 (4) 5

(5) 8 (6) 9

(7) 9