
	eboard さんすうプリント	なまえ	
	(31) 九九にないわり算	ひづけ	


1  九九にないわり算①（一のくらいが0）



つぎの計算をしよう。

(1) $80 \div 2 =$


(2) $90 \div 3 =$

2  九九にないわり算②（2けたの数）



つぎの計算をしよう。

$96 \div 3 =$

3  九九にないわり算：れんしゅう



つぎの計算をしよう。

(1) $30 \div 3 =$

(2) $80 \div 4 =$

(3) $60 \div 2 =$

(4) $48 \div 2 =$

(5) $84 \div 4 =$

(6) $66 \div 6 =$

$$(7) 50 \div 5 =$$

$$(8) 40 \div 2 =$$

$$(9) 24 \div 2 =$$

$$(10) 69 \div 3 =$$

$$(11) 88 \div 2 =$$



こたえ

1 (1) 40 (2) 30

2 32

3 (1) 10 (2) 20

(3) 30 (4) 24

(5) 21 (6) 11

(7) 10 (8) 20

(9) 12 (10) 23

(11) 44