
	eboard さんすうプリント	なまえ	
	(37) 長さをあらわす : km(キロメートル)	ひづけ	


1  長さをあらわす : km (キロメートル)



(1) 長さをあらわす「キロメートル」を、2回なぞって、2回じぶんでかこう。

km km km

(2) 1 キロメートルは、何メートルでしょう。

2  km (キロメートル) ⇔ m (メートル)




(1) つぎの長さを、m (メートル) を使ってあらわそう。

- ① 4km                      ② 4km800m                      ③ 7km600m

(2) つぎの長さを、km (キロメートル) を使ってあらわそう。

- ① 5000m                      ② 1500m                      ③ 3200m

3  ながさの計算



つぎの長さの計算を しましょう。

(1)  $600\text{m} + 400\text{m} =$

(2)  $10\text{km} - 5\text{km} =$

(3)  $600\text{m} + 700\text{m} =$

(4)  $3\text{km}200\text{m} + 800\text{m} =$

(5)  $1\text{km} - 400\text{m} =$

(6)  $2\text{km}200\text{m} - 500\text{m} =$



## こたえ

1 (2) 1000メートル

2 (1) ① 4000m ② 4800m ③ 7600m

(2) ① 5km ② 1km500m ③ 3km200m

3 (1) 1km (2) 5km

(3) 1km300m (4) 4km

(5) 600m (6) 1km700m