


	eboard さんすうプリント	なまえ	
	(38) あまりのあるわり算	ひづけ	

1  あまりのあるわり算



(1) 9このりんごがあります、3人で分けると、どうなりますか。あ～えの中からえらぼう。


あ. 1人2つで、3こあまる い. 1人3つ

う. 1人2つ え. 1人4つで、3こあまる

(2) 10このりんごがあります、3人で分けると、どうなりますか。あ～えの中からえらぼう。

あ. 1人3つで、1こあまる い. 1人3つ

う. 1人4つ え. 1人4つで、2こあまる

2  あまりとわる数のきまり



(1) つぎの計算をしよう。

① $9 \div 3 =$

② $10 \div 3 =$


③ $11 \div 3 =$

(2) あまりのあるわり算について、正しいことをあ～うの中からえらぼう。

あ. あまりは、わられる数より小さくなる。

い. あまりは、わる数より小さくなる。

う. あまりは、こたえより小さくなる。

3  あまりのあるわり算：練習



つぎの計算をしよう。

(1) $19 \div 3 =$

(2) $22 \div 4 =$

(3) $39 \div 6 =$


(4) $73 \div 8 =$

(5) $43 \div 5 =$

(6) $54 \div 7 =$

(7) $31 \div 8 =$

(8) $69 \div 9 =$

4  あまりのあるわり算のたしかめ




つぎのわり算の問題をときました。わり算の答えのたしかめの式をかこう。

(1) $19 \div 3 = 6$ あまり 1

(2) $22 \div 4 = 5$ あまり 2

(3) $69 \div 9 = 7$ あまり 6

5  あまりのあるわり算：文しょうだい



(1) あめが 20 こ あります。1 日 3 こずつ食べると、何日でなくなりますか。

(2) バナナを 4 本ずつ、ふくろに入れて売ります。30 本 あるとき、何ふくろになりますか。

(3) 1 日 6 ページ、夏休みの宿題をすすめます。50 ページあるとき、何日で終わりますか。



こたえ

1 (1) い (2) あ

2 (1) ① 3 ② 3あまり1 ③ 3あまり2

(2) い

3 (1) 6あまり1

(2) 5あまり2

(3) 6あまり3

(4) 9あまり1

(5) 8あまり3

(6) 7あまり5

(7) 3あまり7

(8) 7あまり6

4 (1) $3 \times 6 + 1 = 19$

(2) $4 \times 5 + 2 = 22$

(3) $9 \times 7 + 6 = 69$

5 (1) 7日

(2) 7ふくろ

(3) 9日