
	eboard さんすうプリント	なまえ	
	(47) 文章題 (3年生)	ひづけ	


1  文章題 (3年) : 何倍かをもとめる



(1) お父さんは、36 才です。妹は、6 才です。お父さんのとしは、妹の何倍ですか。

(2) お父さんは、32 才です。妹は、4 才です。お父さんのとしは、妹の何倍ですか。

(3) あおいさんは、25m およげます。妹は、5m およげます。あおいさんは、妹の何倍およげますか。


2  文章題 (3年) : かけ算の入った式



(1) クッキーを 5 人で分けると、1 人 4 枚になり、3 枚あまりました。クッキーは、全部でいくつありましたか。

(2) あめを 6 人で分けると、1 人 8 つ になり、5 つあまりました。あめは、全部でいくつありましたか。

(3) 30 円のおかしを、5 つ買いました。500 円はらうと、おつりは いくらになるでしょう。


3  文章題（3年）：わり算の入った式



(1) 500 円のお金から 100 円のペンを買ひ、のこりを 兄弟 2 人で分けました。分けたあと、それぞれが持っているお金は、いくらになりますか。

(2) 300 円 のおこづかいから 60 円の消しゴムを買ひ、のこりを 3 人で分けました。分けたあと、それぞれが持っているお金は、いくらになりますか。

(3) たかしくんは、おこづかいを 800 円もらったので、弟と 2 人で同じ金がかく
ずつ分け、150 円のアイスを買いました。たかしくんは、のこりいくら持
っているでしょう。

4  文章題（3年）：まとめて計算する



(1) 1 こ 30 円 のチョコを 3 こ、1 こ 50 円 のガムを 3 こ 買いました。全部
でいくらになるでしょう。

(2) 1 こ 50 円 のチョコを 4 こ、1 こ 80 円 のガムを 4 こ 買いました。全部
でいくらになるでしょう。

(3) 次の式をまとめて計算した式として、正しいものを、ア~エの中からえらぼ
う。

$$30 \times 3 + 50 \times 3$$

ア. $30 + 50 \times 9$

イ. $30 + 50 \times 3$

ウ. $(30 + 50) \times 6$

エ. $(30 + 50) \times 3$

(4) 次の式をまとめて計算した式として、正しいものを、ア~エの中からえらぼう。

$$50 \times 4 + 80 \times 4$$

ア. $(50+80) \times 8$

イ. $50+80 \times 4$

ウ. $(50+80) \times 4$

エ. $50+80 \times 16$

(5) 1台に30人のれるバスが2台、1台に6人のれる車が2台あります。全部で何人のれるでしょう。



こたえ

- 1 (1) 6 倍
(2) 8 倍
(3) 5 倍
- 2 (1) 23 枚
(2) 53 こ
(3) 350 円
- 3 (1) 200 円
(2) 80 円
(3) 250 円
- 4 (1) 240 円
(2) 520 円
(3) エ
(4) ウ
(5) 72 人